

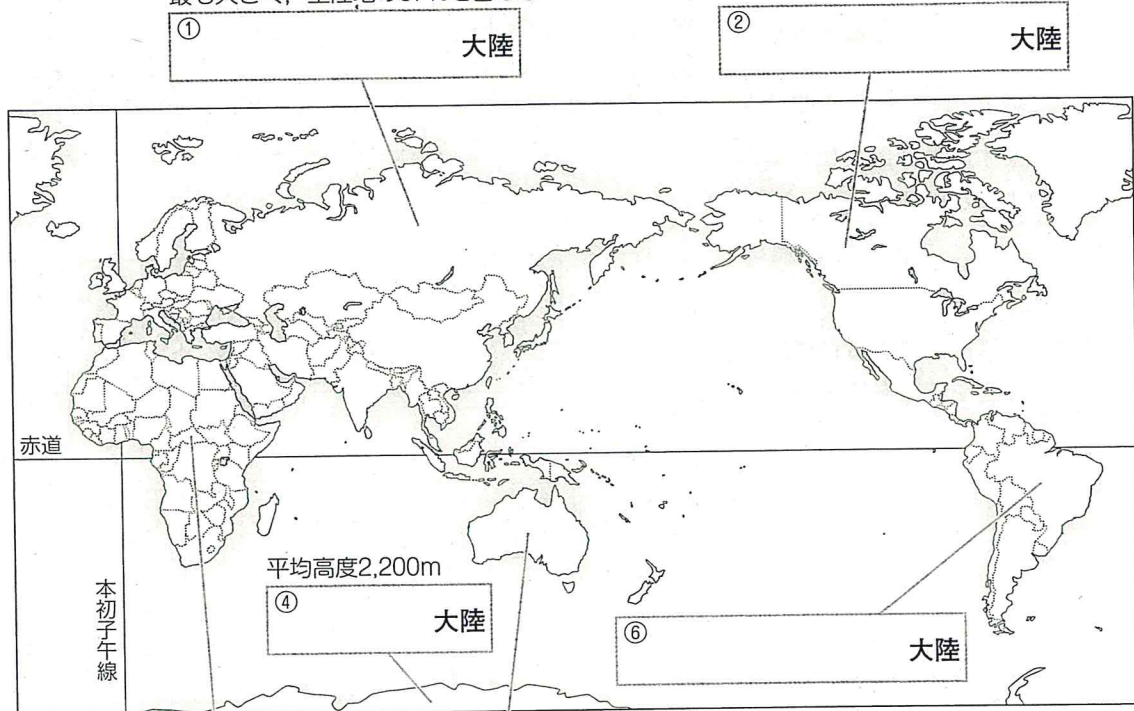
3 大陸と海洋

(月 日)

入試重要度 ★★★

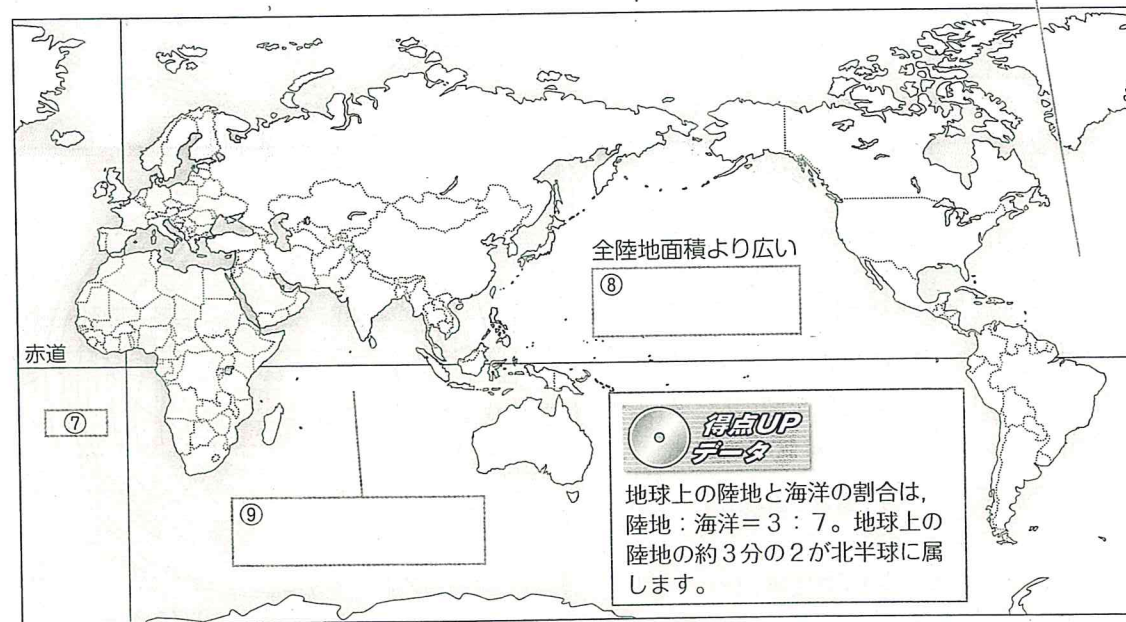
● 次の大陸・海洋名を答えなさい。

最も大きく、全陸地の37%を占める



2番目に大きい

最も小さい



地球上の陸地と海洋の割合は、陸地：海洋＝3：7。地球上の陸地の約3分の2が北半球に属します。

北アメリカ大陸と、ユーラシア大陸西方のヨーロッパ州は、多くの世界地図では離れて描かれていますが、実際には北極海や大西洋をはさんで向かいあっています。

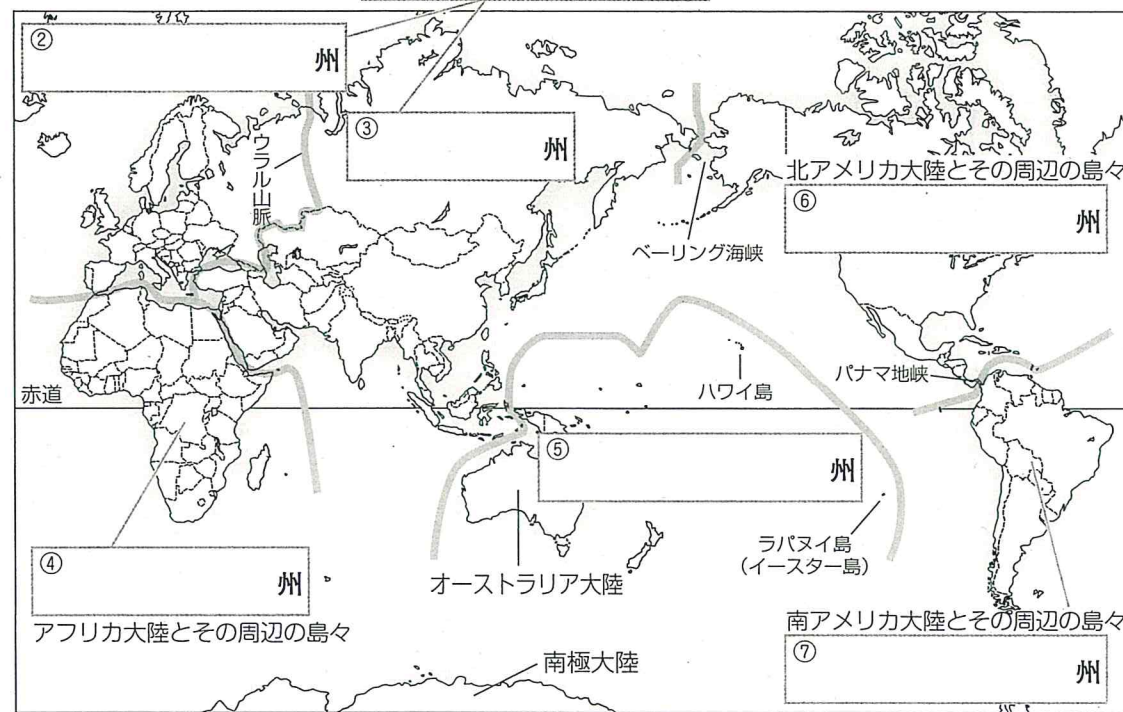
4 世界の地域区分

(月 日)

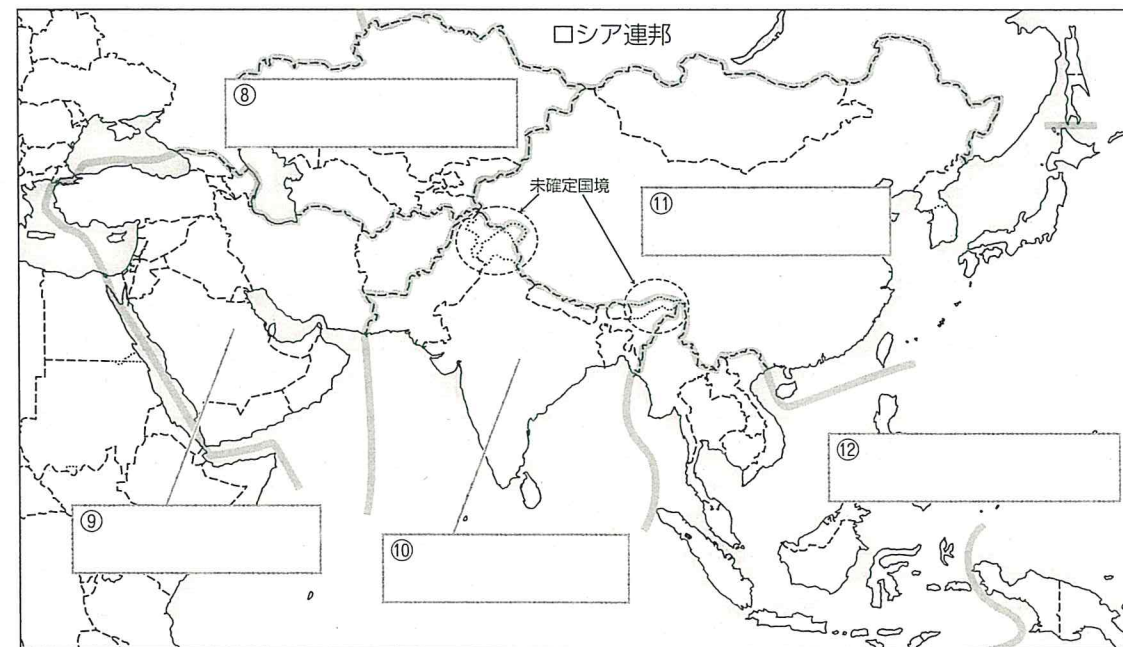
入試重要度 ★★★

● 次の□に入る適当な語を答えなさい。

②と③と合わせた大陸を①大陸といいます。



● アジアを5つに分けたときの地域名を答えなさい。



ロシア連邦は、ウラル山脈を境に西側はヨーロッパ州、東側はアジア州に属し、アジア州の広大な地域のことをシベリアといいます。

5 世界のおもな国々

(月 日)

入試重要度 ★★★



世界の国々において、首都が必ずしも最大の都市であるとは限らないので注意しよう。
例：アメリカ合衆国→ニューヨーク、オーストラリア→シドニー、ブラジル→サンパウロなど。

● 次の地図の国名と首都名を答えなさい。(●は首都のある都市を示します)

① 国名

首都

② 国名

首都

③ 国名

首都

④ 国名

首都

⑤ 国名

首都

⑥ 国名

首都

⑦ 国名

首都

⑧ 国名

首都

⑨ 国名

首都

⑩ 国名

首都

⑪ 国名

首都

⑫ 国名

首都

⑬ 国名

首都

⑭ 国名

首都

⑮ 国名

首都

⑯ 国名

首都



首都とは政府や国会などの統治機関が置かれる都市のこと。首都は多くの国で政治・文化・経済の中心地となっていますが、ワシントンD.C.(アメリカ合衆国)、ブラジリア(ブラジル)、キャンベラ(オーストラリア)のように政府をおくだけのために計画的につくられた都市もあります。

59 日本の地方と地域区分

[月 日]

入試重要度 ★★

● 次の地方名・都市名を答えなさい。

① 地方
② 市
③ 地方
④ 市
⑤ 地方
⑥
⑦ 地方
⑧ 市
⑨ 市
⑩ 地方
⑪ 地方
⑫ 市
⑬ 市
⑭ 地方

西日本 ← 東日本

(この地方に山梨県も含めた「首都圏」という区分もある)

(この地方から新潟県・山梨県をのぞき、滋賀県・三重県を加えた「中部圏」という区分もある)

(この地方に福井県も含めた「近畿圏」という区分もある)

実力アップ

札幌市、仙台市、広島市、福岡市は三大都市(東京都、大阪市、名古屋市)に次いで大きな都市圏を形成し、それぞれの地方で中心的な役割を果たす地方中枢都市です。

● 7地方区分はさらに細かく分けることができます。次の□にあてはまる語句を答えなさい。

⑮
⑯
⑰
⑱
⑲

中国山地
四国山地

(中国山地と瀬戸内海に囲まれた地域を山陽と呼ぶことがあります。)

実力アップ 長野県はもっとも多くの県と接しており、8つの県境をもっています。長野県は7地方区分では中部地方ですが、首都圏・新潟県と合わせて関東甲信越、北陸と合わせて北信越と呼ばれるなど、周辺地域との結びつきが強くなっています。

64 ワンポイント

福井県は中部地方に属していますが、近畿地方との結びつきが強く、また、三重県は近畿地方に属していますが、東海(中部)地方との結びつきが強くなっています。

60 47の都道府県

[月 日]

入試重要度 ★★★

● 日本には47の都道府県があります。それぞれの名を答えなさい。

①	⑫	⑲※
②	⑬	⑳
③	⑭	㉑※
④	⑮※	㉒
⑤	⑯	㉓
⑥	⑰	㉔
⑦	⑱	㉕
⑧※	⑳	㉖※
⑨※	㉑	㉗※
⑩※	㉒※	
⑪	㉓	

① 北海道
② 岩手県
③ 福島県
④ 長野県
⑤ 新潟県
(2010年)
↑ 面積の大きい都道府県

① 香川県
② 大阪府 人口3位
③ 東京都 人口1位
④ 沖縄県
⑤ 神奈川県 人口2位
(2010年)
↑ 面積の小さい都道府県
(2011/12年版「日本国勢図会」)

(※がついている都道府県は、間違いやすい)ので何度も書いて練習しよう。

ワンポイント

和歌山県の北山村は、村全体が奈良県と三重県に囲まれている「飛び地」に存在します。日本には県境が未確定な地域もあります。

61 特色のある都道府県

(月 日)

入試重要度 ★★

●次にあげる都道府県はいずれも海に面していない内陸県です。それぞれの都道府県名を答えなさい。(縮尺は同一ではありません)

①

□

②

□

③

□

④

□

⑤

□

⑥

□

⑦

□

⑧

□

実力アップ 周囲を海に囲まれた都道府県は北海道と沖縄県だけです。海に面していない都道府県は8つ、その他はいずれも県境の一部が海に面しています。

●次の都道府県名を答えなさい。(縮尺は同一ではありません。島はのぞいています)

○特徴のある半島を含む都道府県

⑨

□

⑩

□

⑪

□

⑫

□

⑬

□

○入り組んだ海岸地形を多くもつ都道府県

⑭

□

⑮

□

⑯

□

⑰

□

⑱

□

○その他の特徴をもつ都道府県

⑲

島の数をもっとも多い

□

⑳

人口をもっとも多い

□

㉑

人口をもっとも少ない

□

出題者はココをねらう! 都道府県の形を図で示し、それぞれの都道府県の自然(地形・気候)や産業、人口について総合的に問う問題がよく出ています。

66 **ワンポイント** 都道府県の名称に関する問題にも対応できるようにしておこう。(例)島がつく県→福島、島根、広島、徳島、鹿児島。山がつく県→山形、山梨、富山、和歌山、岡山、山口。

62 都道府県庁の所在地

(月 日)

入試重要度 ★★

●次の都道府県庁のおかれている都市名を答えなさい。

(都道府県庁がおかれていて、それぞれの都道府県の中心になっている都市があります。都道府県名と同じ名の都市もありますが、違う名の都市もあります。下の地図に名まえが記入されている都市は、都道府県名と同じです。)

① 市

② 市

③ 市

④ 市

⑤ 市

⑥ 市

⑦ 市

⑧ 市

⑨ 市

⑩ 市

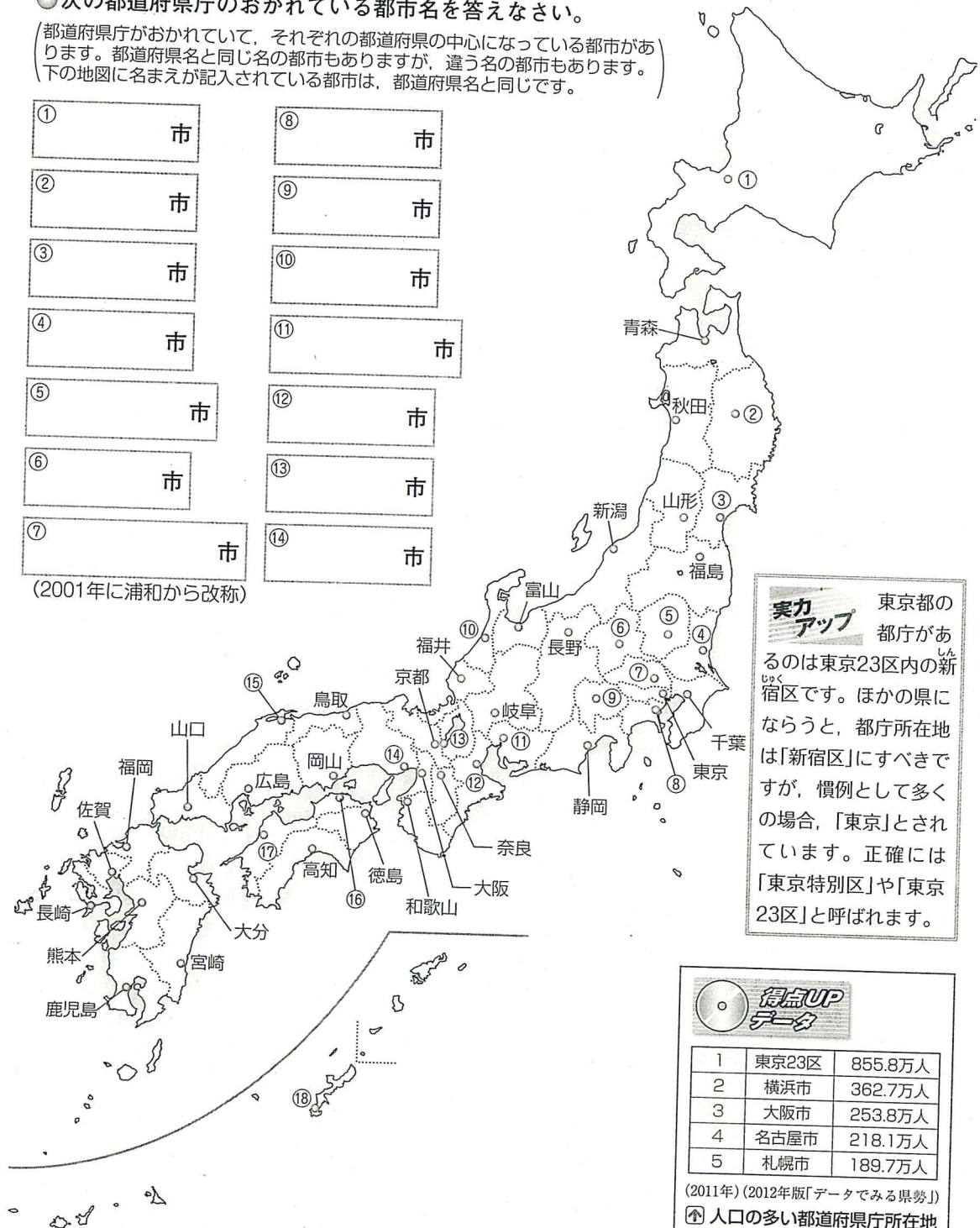
⑪ 市

⑫ 市

⑬ 市

⑭ 市

(2001年に浦和から改称)



実力アップ 東京都の都庁があるのは東京23区内の新宿区です。ほかの県にならうと、都庁所在地は「新宿区」にすべきですが、慣例として多くの場合、「東京」とされています。正確には「東京特別区」や「東京23区」と呼ばれます。

得点UP データ

1	東京23区	855.8万人
2	横浜市	362.7万人
3	大阪市	253.8万人
4	名古屋市	218.1万人
5	札幌市	189.7万人

(2011年) (2012年版「データでみる県勢」)

Ⓜ 人口の多い都道府県庁所在地

⑮ 市

⑯ 市

⑰ 市

⑱ 市

67 **ワンポイント** 都道府県庁のある都市がもっとも人口の多い都市とは限りません。(例)福島県一いわき市、群馬県一高崎市、静岡県一浜松市、三重県一四日市市、山口県一下関市の5都市(2011年現在)。